



Compter jusqu'à 79

1 Quel est le nombre de carreaux de chaque tapis ?

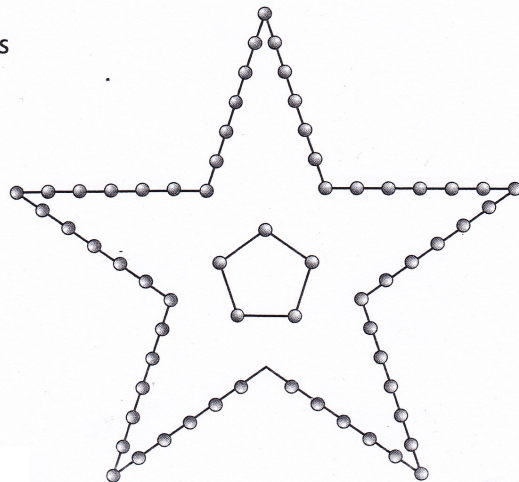


Il y a carreaux.




Il y a carreaux.

2 Quel est le nombre d'ampoules dans cette étoile ?



L'étoile comporte ampoules.

3 Colorie les bonnes étiquettes.




63

73

soixante-treize

soixante-trois




65

75

soixante-cinq

soixante-quinze




67

77

soixante-sept


soixante-dix-sept

4 Colorie en bleu soixante-douze carreaux.



J'ai colorié carreaux.

5 Colorie en jaune soixante carreaux. Colorie en vert seize carreaux.



J'ai colorié carreaux.