


# Fiche 2


## Les moitiés :

1 La moitié de ces dinos sont verts. Les autres sont bleus. Colorie-les.




2 Dessine à chaque fois le nombre de billes en les partageant en deux sacs :


8



6



4




12




14



10



3 Partage les dessins en deux parts égales et complète :




$$\_ + \_ = 4$$

la moitié de 4 est  $\_$



$$\_ + \_ = 10$$

la moitié de 10 est  $\_$



$$\_ + \_ = 16$$

la moitié de 16 est  $\_$