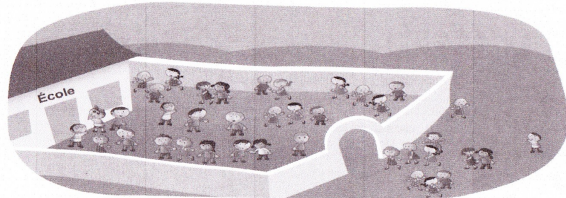


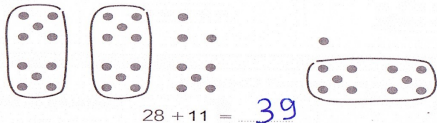
Addition de deux nombres à deux chiffres (1)

Dans la cour, il y a 28 enfants. 15 autres enfants vont entrer dans la cour.
Combien y aura-t-il d'enfants dans la cour ?



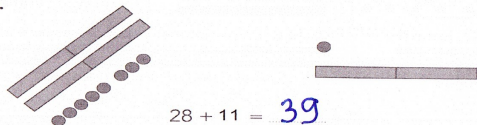
Dédé calcule $28 + 11$.

Il imagine que ses points sont des enfants.
Calcule.



Picbille calcule $28 + 11$.

Il imagine que ses jetons sont des enfants.
Calcule.



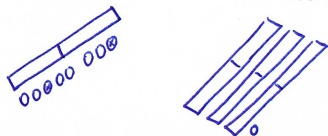
Calcule en dessinant comme Dédé.

$25 + 24$



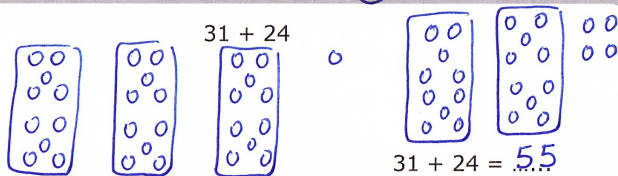
Calcule en dessinant comme Picbille.

$18 + 31$

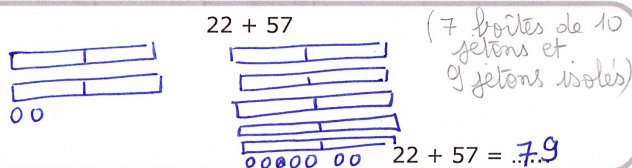


Calcule en dessinant comme Dédé (ou) comme Picbille.


$31 + 24$



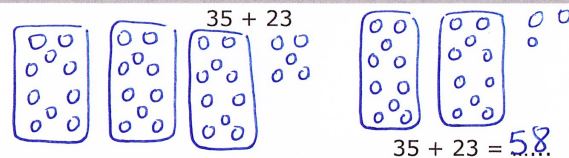
$22 + 57$



$43 + 14$



$35 + 23$



Imagine les dizaines et les unités. Si tu n'es pas sûr(e), dessine.

$27 + 11 = 38$

$32 + 25 = 57$

$12 + 43 = 55$

$36 + 10 = 46$

$26 + 13 = 39$

$14 + 24 = 38$

$12 + 7 = 19$

$29 + 9 = 38$

$43 + 8 = 51$