

Jeudi 2 avril : Semaine 3

Vocabulaire :

Les différents sens d'un mot

Dans chaque phrase, remplace le verbe « passer » par un verbe de sens voisin :

circuler

continuer sans s'arrêter

traverser

pâler

a. La voiture passe dans la rue principale.

b. La chèvre passe la rivière en premier.

c. Les couleurs passent au soleil.

d. Pierre passe son chemin.

Le dictionnaire :

Lis cet article de dictionnaire, puis réponds aux questions.

hérissier v.

1) Dresser son poil ou ses plumes. *Le chat hérisse ses poils en voyant le chien.*

2) Mettre quelqu'un en colère. *Son attitude me hérisse.*

SYN. exaspérer, horripiler.


a. Combien de sens le mot hérissier a-t-il ?

b. À quel sens correspond la phrase suivante : « Ce mauvais joueur a le don de me hérissier ! » ?
(sens n°1 ou sens n°2)

c. Donne un synonyme du verbe hérissier.

Géométrie : Repérage sur un plan.

Observe le plan de cette ville



- Quel bâtiment est situé sur la case (F, 5) ?
- Indique les cases du plan où se trouvent l'école : (.....,), le supermarché : (.....,).
- Léa est dans la case (F, 6). **Entoure-la.**
- Elle veut aller au stade. **Indique** la case du plan où se trouve le stade : (.....,).
- Trace en rouge le chemin qu'elle emprunte pour aller au stade.

Je m'entraîne

Quel bâtiment se trouve dans la case (B, 3) ?

Indique les cases où se trouvent le lac : (.....,), l'entrée du parc : (.....,).

Théo est près du policier. Il veut se rendre au supermarché.
Par quelles cases passe-t-il ?




Mesures de longueurs (voir classeur de leçons de maths)

Rappel : $1\text{ m} = 10\text{ dm}$ $1\text{ m} = 100\text{ cm}$ $1\text{ m} = 1000\text{ mm}$

Je m'entraîne

3 Complète avec m, dm, cm ou mm.



1.....




4.....




8.....


4 Entoure la bonne mesure.



3 m / 300 m



2 mm / 20 mm



20 cm / 200 cm

5 Convertis et complète.

a

4 dm = cm

4 cm = mm

3 m = cm

5 dm = mm

b

20 mm = cm

300 cm = m

Pour les conversions, tu peux t'aider avec le tableau de conversion (on l'a utilisé en classe en début d'année).

Comment utiliser le tableau de conversion ?

-On place toujours le chiffre des unités dans la colonne de l'unité utilisée.

-On place un chiffre par colonne.

	mètre	décimètre	centimètre	millimètre
	m	dm	cm	mm
	7	○	○	○
3	9	○	○	

Exemples : $7\text{ m} = 7000\text{ mm}$

$39\text{ m} = 3900\text{ cm}$

